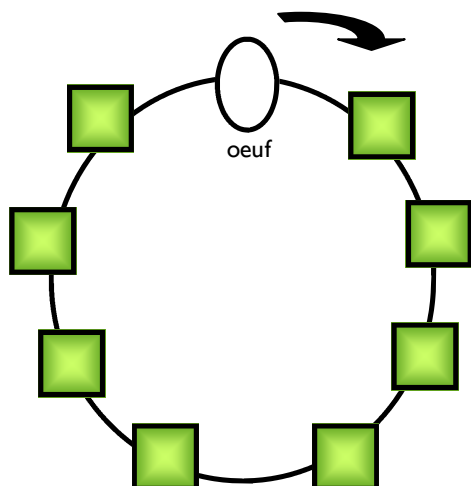




## Pars à la découverte des insectes avec Micropolis

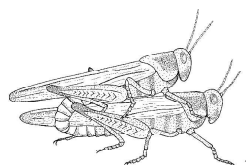
### Le cycle de développement du criquet



Pour reconstituer le cycle de vie du criquet, reporte les numéros de chaque image sur le cercle ci-contre.



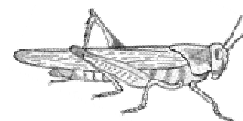
1- La larve au 5° stade



2- L' accouplement



3- La larve au 2° stade



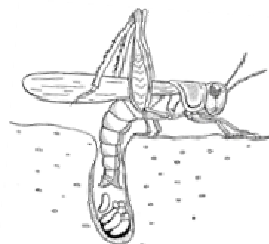
4- L' adulte



7- La larve au 3° stade



6- La larve au 1° stade



5- La ponte



8- La larve au 4° stade

### Le sais-tu?

Si la larve ressemble à l'adulte, la métamorphose est **incomplète**.  
Si la larve ne ressemble pas à l'adulte, la métamorphose est **complète**.

Le criquet a une métamorphose..... .

